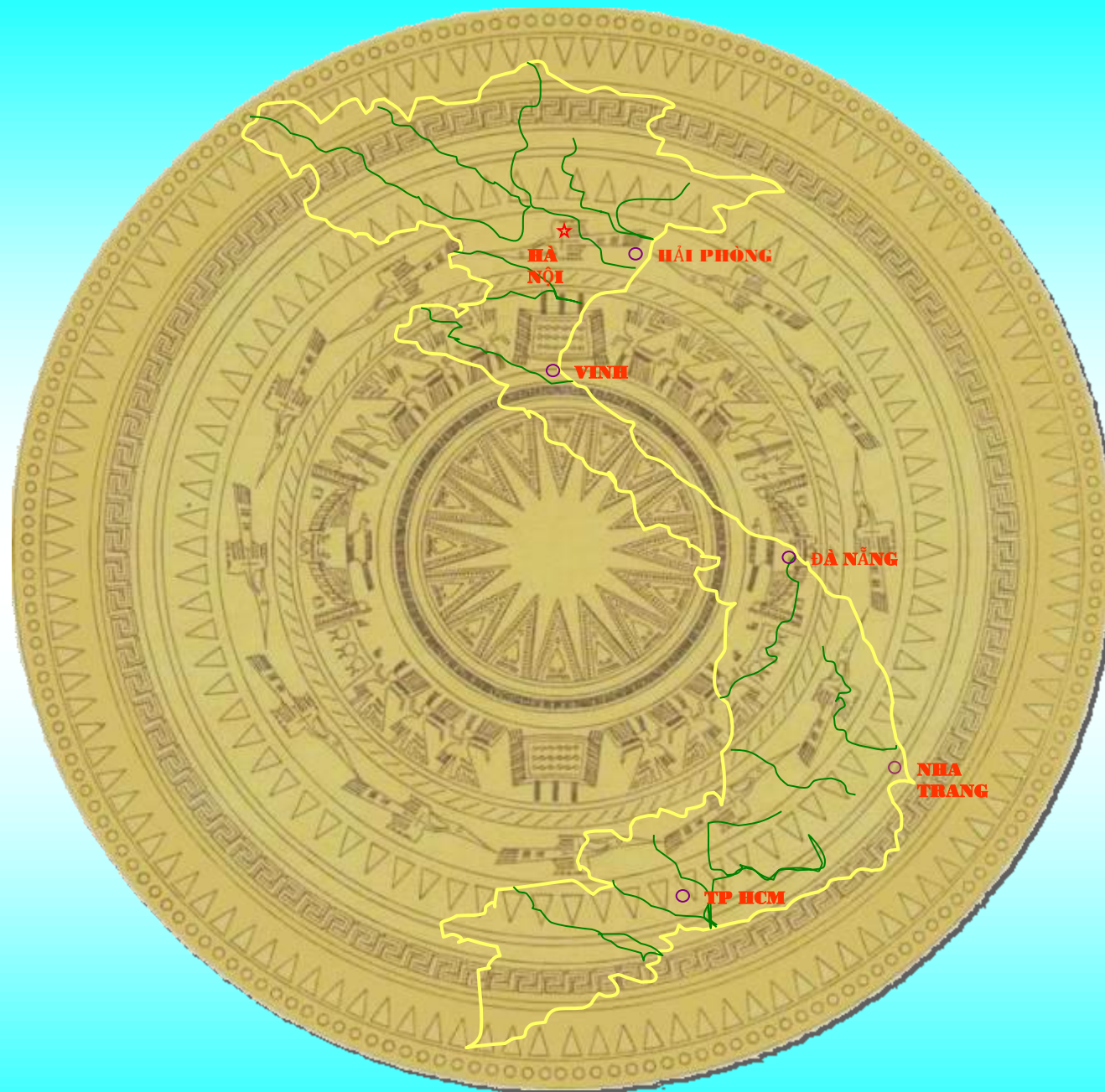
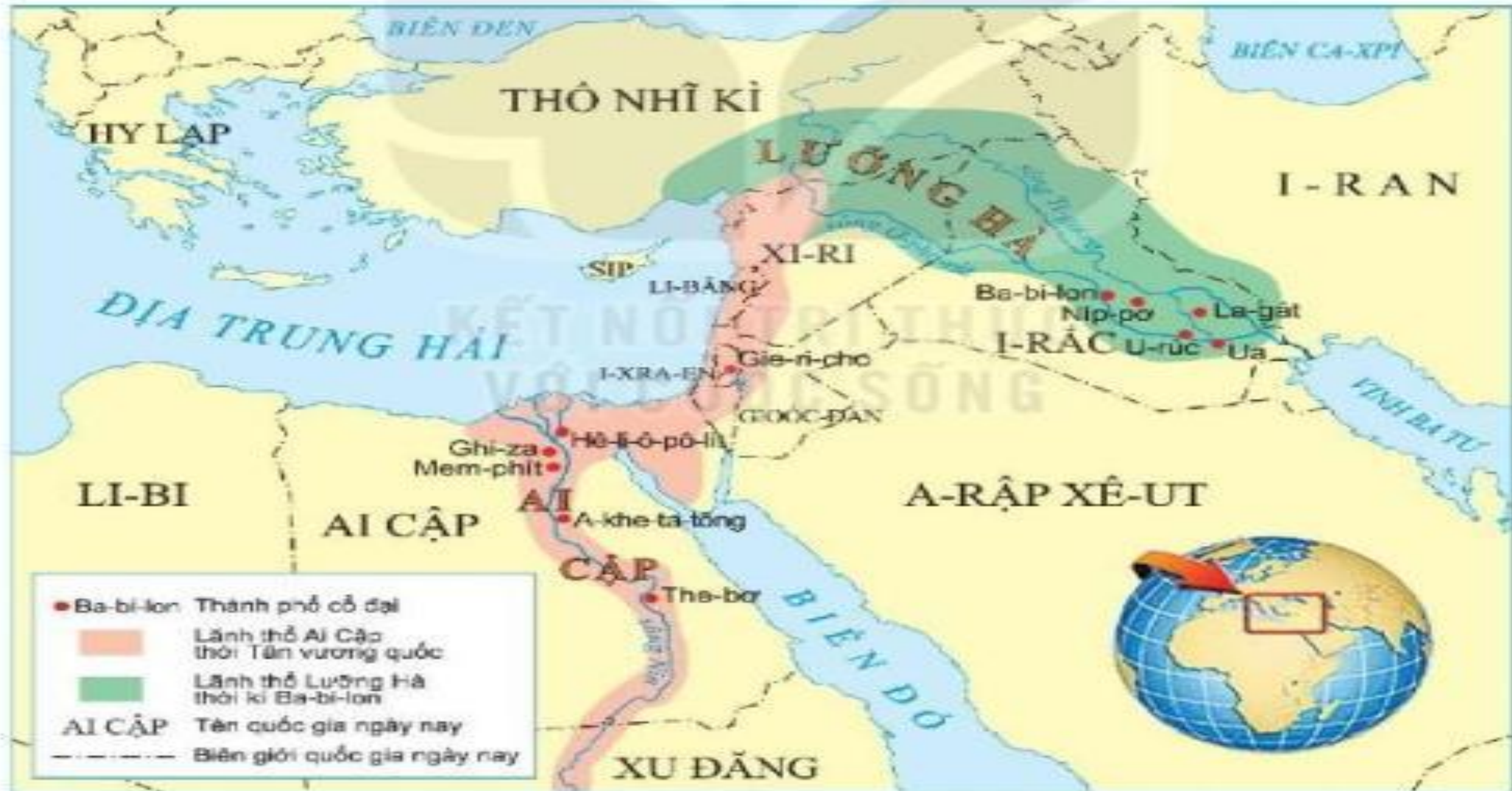




KẾT NỐI TRI THỨC
VỚI CUỘC SỐNG





▲ Hình 3. Lược đồ Ai Cập và Lương Hà cổ đại

Hình ảnh	Từ ngữ	Kết quả
1. 	a/ Vườn treo Ba-bi-lon	
2. 	b/ Chữ viết của người Ai Cập	
3.  <small>Hình 6. Vườn treo Ba-bi-lon (tranh minh họa)</small>	c. Kim Tự Tháp	
4. 	d. Chữ viết của người Lưỡng Hà	

Hình ảnh	Từ ngữ	Kết quả
<p>1.</p> 	a/ Vườn treo Ba-bi-lon	1.b
<p>2.</p> 	b/ Chữ viết của người Ai Cập	2.d
<p>3.</p>  <p><small>Hình 6. Vườn treo Ba-bi-lon (tranh minh họa)</small></p>	c.Kim Tự Tháp	3.a
<p>4.</p> 	d.Chữ viết của người Lưỡng Hà	4.c

CHƯƠNG 3: XÃ HỘI CỔ ĐẠI

TIẾT 12- BÀI 7: AI CẬP VÀ LƯƠNG HÀ CỔ ĐẠI (tiết 3)

- 1. Tặng phẩm của những dòng sông**
- 2. Hành trình lập quốc của người Ai Cập và Lương Hà**
- 3. Những Thành tựu văn hóa chủ yếu :**

Thảo luận, điền phiếu học tập

Nhóm 1,2: Em hãy hoàn thành bảng thành tựu văn hóa của người **Ai Cập** ?

Thành tựu	Ai Cập	Tên tranh ảnh minh họa
Chữ viết		
Toán học		
Kiến trúc- Điều khắc		
Thiên văn học		
Y học		

Thảo luận, điền phiếu học tập

Nhóm 3,4 :

Em hãy hoàn thành bảng thành tựu văn hóa của người **Lưỡng Hà** ?

Thành tựu	Lưỡng Hà	Tên tranh ảnh minh họa
Chữ viết		
Toán học		
Kiến trúc- Điều khắc		
Thiên văn học		
Y học		

Nhóm 1,2: Em hãy hoàn thành bảng thành tựu văn hóa của người Ai Cập ?

Thành tựu	Ai Cập	Tên tranh ảnh minh họa
Chữ viết		
Toán học		
Kiến trúc- Điều khắc		
Thiên văn học		
Y học		


Thành tựu	Ai Cập	Tên tranh ảnh minh họa
Chữ viết	Chữ tượng hình viết trên giấy Pa-py- rút	
Toán học	Hệ đếm thập phân, chữ số từ 1 đến 9 .Tính diện tích	
Kiến trúc -Điêu khắc	Kim tự tháp, tượng Nhân sư	
Thiên văn học	Họ biết làm ra lịch ,làm đồng hồ Mặt Trời	
Y học	Thuật ướp xác	


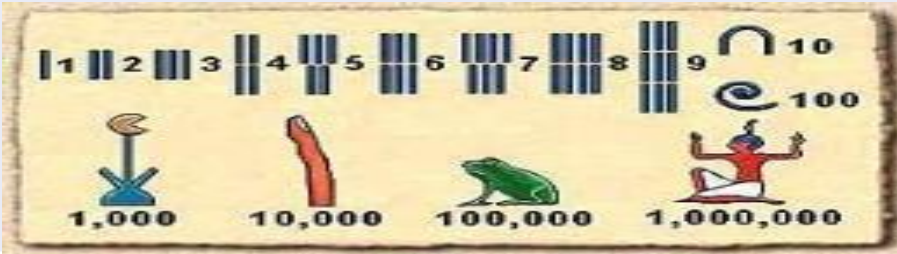
Thành tựu	Ai Cập	Tên tranh ảnh minh họa
Chữ viết	Chữ tượng hình viết trên giấy Pa-py- rút	 <p>Hình 1. Chữ viết trên giấy Pa-pi-rút của người Ai Cập</p>
Toán học		
Kiến trúc -Điêu khắc		
Thiên văn học		
Y học		

Chữ tượng hình



▲ Hình 1. Chữ viết trên giấy Pa-pi-rut của người Ai Cập



Thành tựu	Ai Cập	Tên tranh ảnh minh họa
Chữ viết	Chữ tượng hình viết trên giấy Pa-py- rút	
Toán học	Hệ đếm thập phân, chữ số từ 1 đến 9 .Tính diện tích	
Kiến trúc -Điêu khắc		
Thiên văn học		
Y học		

Chữ số



Thành tựu	Ai Cập	Tên tranh ảnh minh họa
Chữ viết	Chữ tượng hình viết trên giấy Pa-py- rút	
Toán học	Hệ đếm thập phân, chữ số từ 1 đến 9 .Tính diện tích	
Kiến trúc -Điêu khắc	Kim tự tháp, tượng Nhân sư	
Thiên văn học		
Y học		



Tượng Nhân sư lớn ở Giza thường được biết đến với tên gọi **tượng Nhân sư**, là một bức tượng làm bằng đá vôi hình một con nhân sư (một sinh vật truyền thuyết với thân sư tử và đầu người) trong tư thế phủ phục nằm ở cao nguyên Giza, trên tả ngạn sông Nile tại Giza, Ai Cập. Đây là bức tượng nguyên khối lớn nhất thế giới, dài 73,5 m và cao 20,22 m . Bức tượng được cho là do người Ai Cập cổ đại ở thời kỳ Cổ Vương quốc xây dựng, dưới triều đại của Pharaon Khafra (2558-2532 trước công nguyên).



▲ Hình 7. Kim tự tháp và tượng Nhân sư ở Ai Cập

Thành tựu	Ai Cập	Tên tranh ảnh minh họa
Chữ viết	Chữ tượng hình viết trên giấy Pa-py- rút	
Toán học	Hệ đếm thập phân, chữ số từ 1 đến 9 .Tính diện tích	
Kiến trúc -Điêu khắc	Kim tự tháp, tượng Nhân sư	
Thiên văn học	Họ biết làm ra lịch ,làm đồng hồ Mặt Trời	
Y học		



Thành tựu	Ai Cập	Tên tranh ảnh minh họa
Chữ viết	Chữ tượng hình viết trên giấy Pa-py- rút	
Toán học	Hệ đếm thập phân, chữ số từ 1 đến 9 .Tính diện tích	
Kiến trúc -Điêu khắc	Kim tự tháp, tượng Nhân sư	
Thiên văn học	Họ biết làm ra lịch ,làm đồng hồ Mặt Trời	
Y học	Thuật ướp xác	



Hình 6.4. Xác ướp Ai Cập cổ đại

Thành tựu	Ai Cập	Tên tranh ảnh minh họa
Chữ viết	Chữ tượng hình viết trên giấy Pa-py- rút	
Toán học	Hệ đếm thập phân, chữ số từ 1 đến 9 .Tính diện tích	
Kiến trúc -Điêu khắc	Kim tự tháp, tượng Nhân sư	
Thiên văn học	Họ biết làm ra lịch ,làm đồng hồ Mặt Trời	
Y học	Thuật ướp xác	

Nhóm 3,4 : Em hãy hoàn thành bảng thành tựu văn hóa của người Lương Hà ?

Thành tựu	Lương Hà	Tên tranh ảnh minh họa
Chữ viết		
Toán học		
Kiến trúc- Điều khắc		
Thiên văn học		
Y học		

Thành tựu	Lương Hà	Tên tranh ảnh minh họa
Chữ viết	Chữ hình Nôm viết trên đất sét	
Toán học	Hệ đếm 60	
Kiến trúc - Điều khắc	Vườn treo Ba-bi-lon, hình khắc trên đá chiếc xe kéo có người điều khiển.	
Thiên văn học	Họ làm ra lịch	
Y học		

Thành tựu	Lưỡng Hà	Tên tranh ảnh minh họa
Chữ viết	Chữ hình Nôm viết trên đất sét	
Toán học		
Kiến trúc - Điêu khắc		
Thiên văn học		
Y học		

Chữ hình Nê-m



Thành tựu	Lưỡng Hà	Tên tranh ảnh minh họa
Chữ viết	Chữ hình Nôm viết trên đất sét	
Toán học	Hệ đếm 60	
Kiến trúc - Điều khắc		
Thiên văn học		
Y học		

Hệ số đếm



Thành tựu	Lưỡng Hà	Tên tranh ảnh minh họa
Chữ viết	Chữ hình Nôm viết trên đất sét	
Toán học	Hệ đếm 60	
Kiến trúc - Điều khắc	Vườn treo Ba-bi-lon, khắc trên đá hình chiếc xe kéo có người điều khiển.	 <p data-bbox="1735 1001 2415 1019">Hình 6. Vườn treo Ba-bi-lon (tranh minh họa)</p>
Thiên văn học		
Y học		

Vườn treo Ba-bi-lon



Theo truyền thuyết, vườn treo Babylon là món quà đặc biệt của nhà vua **Ne-bu-chat-ne-da II** tặng hoàng hậu được sủng ái là công chúa xứ Medes., công trình được xây dựng khoảng 600 TCN. Vườn treo Babylon dựng ngay cạnh cung điện nhà vua, bên bờ sông Euphrate thuộc lưu vực Lưỡng Hà, cách thành Baghdad, Iraq 50 km về phía nam.



Ne-bu-chat-ne-da II

Vườn được xây trên một quả đồi nhỏ, có dạng vuông gồm bốn tầng, tầng nọ cách tầng kia 25m, mỗi tầng là một vườn nối nhau bằng những cầu thang khá rộng.

Tầng dưới cùng có diện tích là 60.516 m², nằm trên một hệ thống cột gồm 625 cái. Hệ thống cột này càng lên cao càng thu hẹp dần, số lượng cột ít đi, đến tầng 2 có 441 cột, tầng 3 có 289 cột, tầng trên cùng có 169 cột, kích thước cũng nhỏ dần.

Diện tích tầng trên cùng chỉ còn bằng nửa tầng dưới cùng. Toàn bộ vườn treo giống như một chiếc tháp giạt cấp rất phổ biến ở lưu vực Lưỡng Hà.

Nền của tầng làm bằng đá tảng, mỗi viên dài 5 m, rộng 1,2 m, được phủ nhựa, sau đó lát gạch và cuối cùng phủ một lớp chì, trên đó một lớp đất màu mỡ

Vườn treo Ba-bi-lon





Một tác phẩm điêu khắc của người Lương Hà miêu tả việc sử dụng bánh xe .

miêu tả việc sử dụng bánh xe

Thành tựu	Lương Hà	Tên tranh ảnh minh họa
Chữ viết	Chữ hình Nôm viết trên đất sét	
Toán học	Hệ đếm 60	
Kiến trúc - Điều khắc	Vườn treo Ba-bi-lon, hình khắc trên đá chiếc xe kéo có người điều khiển.	
Thiên văn học	Họ làm ra lịch	
Y học		

3. Luyện tập

Câu 1. Việc nhà nước Ai Cập, Lương Hà cổ đại hình thành ở lưu vực các con sông gây ra khó khăn gì cho cư dân ở đây?

- A. Sự chia cắt về mặt lãnh thổ. B. Tình trạng hạn hán kéo dài.
C. Sự tranh chấp lãnh thổ xả ra. **D.** Tình trạng lũ lụt xả ra vào mùa mưa.

Câu 2. Thành tựu nào sau đây của người Ai Cập cổ đại còn sử dụng đến ngày nay?

- A. Chữ tượng hình. **B.** Hệ đếm thập phân.
C. Hệ đếm 60. D. Thuật ướp xác.

Câu 3: Giỏi về hình học là người dân:

A. Lương Hà

B Ai Cập

C. Hi Lạp

D. Rô ma

Câu 4: Giỏi về số học là người dân:

A. Ai Cập

B. Rô ma

C Lương Hà

D. Hi Lạp

4. Vận dụng

- Dựa vào kiến thức vừa học, em hãy viết một bài giới thiệu về một thành tựu văn hóa của cư dân Ai Cập hoặc cư dân Lưỡng Hà mà em ấn tượng.?



**CHÚC CÁC EM HỌC
TỐT!**