

# BÀI 8 : AN ĐỘ CỔ ĐẠI (tiết 2)

1. Điều kiện tự nhiên

2. Chế độ xã hội ở Ấn Độ.

3. Những thành tựu văn hóa tiêu biểu:





Van hóa ?n Đ? th?i c? d?i - L?ch s? 6 - Hoc10.webm

**Thảo luận nhóm 3 phút: Em hãy hoàn thành vào PHT sau những thành tựu văn hóa tiêu biểu**

<b>Lĩnh vực</b>	<b>Thành tựu văn hóa tiêu biểu</b>
<b>Chữ viết</b>	
<b>Văn học</b>	
<b>Lịch</b>	
<b>Toán học</b>	
<b>Tôn giáo</b>	
<b>Kiến trúc- Điêu khắc</b>	
<b>Nhận xét</b>	

## Trò chơi : Ai nhanh hơn

<b>Lĩnh vực</b>	<b>Thành tựu tiêu biểu</b>	
	<b>Đội 1</b>	<b>Đội 2</b>
Chữ viết		
Văn học		
Lịch		
Toán học		
Tôn giáo		
Kiến trúc- Điêu khắc		
Nhận xét		

Lĩnh vực	Thành tựu văn hóa tiêu biểu
Chữ viết	Chữ Phạn ( San- xkrit)
Văn học	Sử thi Ma-ha-bha-ra-ta và Ra-ma-y-a-na.
Lịch	Chia một năm làm 12 tháng, mỗi tháng có 30 ngày (một năm có 360 ngày). Cứ sau 5 năm thêm một tháng nhuận.
Toán học	Tạo ra số có 10 chữ số, đặc biệt có giá trị là chữ số 0.
Tôn giáo	đạo Bà La Môn, đạo Phật
Kiến trúc- Điêu khắc	cột đá A-sô-ca và đại bảo tháp San-chi
Nhận xét	Văn hóa Ấn Độ đạt được nhiều thành tựu rực rỡ trên nhiều lĩnh vực, đóng góp to lớn cho nền văn minh nhân loại.

## Cặp đôi chia sẻ ( 3 Phút)

Lĩnh vực	So sánh các thành tựu văn hóa tiêu biểu của Ấn Độ và Ai Cập	
	Ấn Độ	Ai Cập
Chữ viết		
Văn học		
Lịch		
Toán học		
Tôn giáo		
Kiến trúc- Điêu khắc		

Y học		
-------	--	--

<b>Lĩnh vực</b>	<b>Thành tựu tiêu biểu của Ấn Độ và Ai Cập.</b>	
	<b>Ấn Độ</b>	<b>Ai Cập</b>
Chữ viết	Chữ tượng hình, chữ Phạn ( San- xkrit)	Chữ tượng hình viết trên giấy Pa-py- rút
Văn học	Sử thi Ma-ha-bha-ra-ta và Ra-ma-y-a-na.	
Lịch	Chia một năm làm 12 tháng, mỗi tháng có 30 ngày	Chia một năm làm 12 tháng, mỗi tháng có 30 ngày
Toán học	Tạo ra số có 10 chữ số, đặc biệt có giá trị là chữ số 0.	Hệ đếm thập phân, chữ số từ 1 đến 9 .Tính diện tích
Tôn giáo	đạo Bà La Môn, đạo Phật	
Kiến trúc- Điêu khắc	Cột đá A-sô-ca và đại bảo tháp San-chi	Kim tự tháp, tượng Nhân sư
<b>Y học</b>	<b>Gây mê, gây tê ..</b>	<b>Thuật ướp xác</b>


Kí tự tượng hình khắc trên một con dấu bằng đất nung được tìm thấy ở Ha-ráp-pa-  
thành phố cổ thuộc lưu vực sông Ấn.





# Chữ viết



क्क	क्ख	क्क	क्ण	क्त	क्त्य	क्त्र	क्त्रय	क्त्व	क्न	क्न्य	क्म
kka	kkha	kca	kṇa	kta	ktya	ktra	ktrya	ktva	kna	knya	kma
क्य	क्क	क्क्य	क्क	क्क	क्क्य	क्क्ष	क्क्षम	क्क्ष्य	क्क्ष्व	क्क्य	क्ख
kya	kra	krya	kla	kva	kvya	kṣa	kṣma	kṣya	kṣva	khya	khra
ग्य	ग्र	ग्र्य	घ्न	घ्न्य	घ्नम	घ्न्य	घ्न	ङ्क	ङ्क	ङ्क्य	ङ्क
gya	gra	grya	ghna	ghnya	ghma	ghya	ghra	ṅka	ṅkta	ṅktya	ṅkya
ङ्क	ङ्क	ङ्क	ङ्क	ङ्क	ङ्क	ङ्क	ङ्क	ङ्क	ङ्क	ङ्क	ङ्क
ṅkṣa	ṅkṣva	ṅkha	ṅkhya	ṅga	ṅgya	ṅgha	ṅghya	ṅghra	ṅṅa	ṅṅa	ṅṅa
ञ्य	च्च	च्च	च्च	च्च	च्च	च्च	च्च	च्च	च्च	च्च	च्च
ṅya	cca	ccha	cchra	cña	cma	cya	chya	chra	ṅja	ṅjha	ṅña
झ्य	ज्म	ज्य	ज्र	ज्व	ञ्च	ञ्च	ञ्च	ञ्च	ञ्च	ञ्च	ञ्च
ṅṅya	jma	jya	jra	jva	ñca	ñcma	ñcya	ñcha	ñja	ñjya	ṅṅa





# Sử thi Ma-ha-bha-ra-ta và Ra-ma-y-a-na

“Cái gì không có trong Ma-ha-bha-ra-ta thì cũng không thể tìm được bất cứ nơi đâu trên đất nước Ấn Độ “



## Toán học

0	1	2	3	4	5	6	7	8	9
०	१	२	३	४	५	६	७	८	९

Hình 7. Hệ thống 10 chữ số mà người Ấn Độ cổ đại phát minh ra



## MAYAN NUMBERS

A VIGESIMAL (BASE 20) SYSTEM

ICON IMAGES CORRESPOND TO NUMBERS SHOWN


0	1	2	3	4	5	6	7	8	9
10	11	12	13	14	15	16	17	18	19

**Ngoài tầm quan trọng của việc thế chỗ cho một giá trị, số không còn được coi là một số và sử dụng trong hệ thống số đếm.**



# Tôn giáo





Các bức điêu khắc bằng đất nung ở ngôi đền Si-am Rai ( Ấn Độ) mô tả cảnh trong sử thi Ra-ma-y –a-na và Ma-ha-bha-ra-ta



# Đại bảo tháp San-chi



## Cột đá A-sô-ca

## Đầu trụ cột đá A- sô- ca

Cột đá cao khoảng 15,24 m, đầu trụ được khắc bốn con sư tử dựa lưng vào nhau, đặt trên trụ ngắn tròn. Trên bề mặt trụ ngắn có bốn bánh xe pháp luân xen kẽ với bốn con vật xung quanh: Con voi, bò đực, một con ngựa và một con sư tử. Đế trụ là bán cầu hình hoa sen dốc ngược.





### **Hoạt động 3. Luyện tập:**

**Câu 1.** Hai con sông gắn liền với sự hình thành nền văn minh Ấn Độ cổ đại?

- A. Sông Ấn – Hằng.      B. Sông Ti-gơ-rơ và Ô-phơ-rát.  
C. Sông Trường Giang – Hoàng Hà.      D. Sông Ô-phơ-rát và Trường Giang.

**Câu 2.** Ở Ấn Độ, những thành thị đầu tiên xuất hiện vào khoảng thời gian nào?

- A. 1000 năm TCN.      B. 1500 năm TCN.  
C. 2000 năm TCN.      D. 2500 năm TCN.

**Câu 3.** Văn hóa Ấn Độ được truyền bá và có ảnh hưởng mạnh mẽ, sâu rộng nhất ở

A. Việt Nam.

B. Trung Quốc.

C. các nước Ả Rập

D. các nước Đông Nam Á.

**Câu 4.** Chữ viết riêng của người Ấn Độ cổ đại là

A. chữ tượng hình.

B. chữ hình nêm.

C. chữ Phạn.

D. chữ Hin-đô.





Thảo luận nhóm ( 3 phút) Em hãy hoàn thành vào PHT sau những thành tựu văn hóa tiêu biểu

<b>Lĩnh vực</b>	<b>Thành tựu văn hóa tiêu biểu</b>
Chữ viết	
Văn học	
Lịch	
Toán học	
Tôn giáo	
Kiến trúc- Điêu khắc	
Nhận xét	